



ΕΝΟΤΗΤΑ 3



Α. Ωρα για σύνθετα προβληματάκια!

1) Ο Χρήστος αγόρασε από το κυλικείο δύο χυμούς προς 35 σεντ τον ένα και 3 μπισκοτάκια προς 10 σεντ το ένα. Πόσα πλήρωσε συνολικά;

Μαθηματική Πρόταση: $(2 \times 35) + (3 \times 10) = \checkmark$

Απάντηση: Πλήρωσε συνολικά 100 σ. ή €1.




2) Η Αναστασία κρατούσε ένα κέρμα των 50 σεντ. Αγόρασε ένα μολύβι που στοίχιζε 18 σεντ και ένα σβηστήρι που στοίχιζε 26 σεντ. Πόσα ρέστα πήρε;

Μαθηματική Πρόταση: $50 - (18 + 26) = \checkmark$

Απάντηση: Πήρε ρέστα 6 σεντ.

18	4 10
26 +	20
<hr/>	-44
44	<hr/>
	06




3) Ο παππούς της Αντοναέτας έχει στη φάρμα του 8 κότες και 7 κατσίκες. Πόσα πόδια έχουν όλα τα ζώα της φάρμας;

Μαθηματική Πρόταση: $(8 \times 2) + (7 \times 4) = \checkmark$

Απάντηση: Όλα τα ζώα της φάρμας έχουν 44 πόδια

$$\begin{aligned} 8 \times 2 &= 16 \\ 7 \times 4 &= 28 \end{aligned}$$

①
16
+ 28
<hr/>
44



Όνομα: _____ Τάξη: _____

Ο ΠΙΝΑΚΑΣ ΤΟΥ 6

1. Συμπληρώνω τον πίνακα του 6.

$$\begin{aligned} 6 \times 0 &= 0 \\ 6 \times 1 &= 6 \\ 6 \times 2 &= 12 \\ 6 \times 3 &= 18 \\ 6 \times 4 &= 24 \\ 6 \times 5 &= 30 \\ 6 \times 6 &= 36 \\ 6 \times 7 &= 42 \\ 6 \times 8 &= 48 \\ 6 \times 9 &= 54 \\ 6 \times 10 &= 60 \end{aligned}$$

2. Ανεβαίνω και κατεβαίνω 6-6.

6	60
12	54
18	48
24	42
30	36
36	30
42	24
48	18
54	12
60	6

3. Λύνω τις μαθηματικές προτάσεις:

$0 \times 6 = 0$

$9 \times 6 = 54$

$1 \times 6 = 6$

$8 \times 6 = 48$

$3 \times 6 = 18$

$6 \times 4 = 24$

$6 \times 6 = 36$

$2 \times 6 = 12$

$10 \times 6 = 60$

$5 \times 6 = 30$

$7 \times 6 = 42$

$5 \dots \times 6 = 30$

$9 \dots \times 6 = 54$

$1 \dots \times 6 = 6$

$10 \dots \times 6 = 60$

$3 \dots \times 6 = 18$


$8 \dots \times 6 = 48$

$7 \dots \times 6 = 42$

$4 \dots \times 6 = 24$

$6 \dots \times 6 = 36$

4. Συμπλήρωσε το μονοπάτι.



6. Λύσε τις εξισώσεις.

$$8 : 2 = \boxed{4}$$

$$40 : 10 = \boxed{4}$$

$$25 : 5 = \boxed{5}$$

$$6 : 2 = \boxed{3}$$

$$30 : 10 = \boxed{3}$$

$$80 : 10 = \boxed{8}$$

$$20 : \boxed{2} = 10$$

$$50 : \boxed{10} = 5$$

$$35 : \boxed{7} = 5$$

$$12 : \boxed{6} = 2$$

$$40 : \boxed{8} = 5$$

$$40 : \boxed{10} = 4$$

5. Συμπλήρωσε όπως

το παράδειγμα.

