


ΔΡΑΣΤΗΡΙΟΤΗΤΕΣ

1. Να μετρήσεις το μήκος και το πλάτος του ορθογωνίου, για να υπολογίσεις το εμβαδόν του. (Μετρώ με τη χερίση είχας, ξεκινώντας από το 0 και όχι το 1)



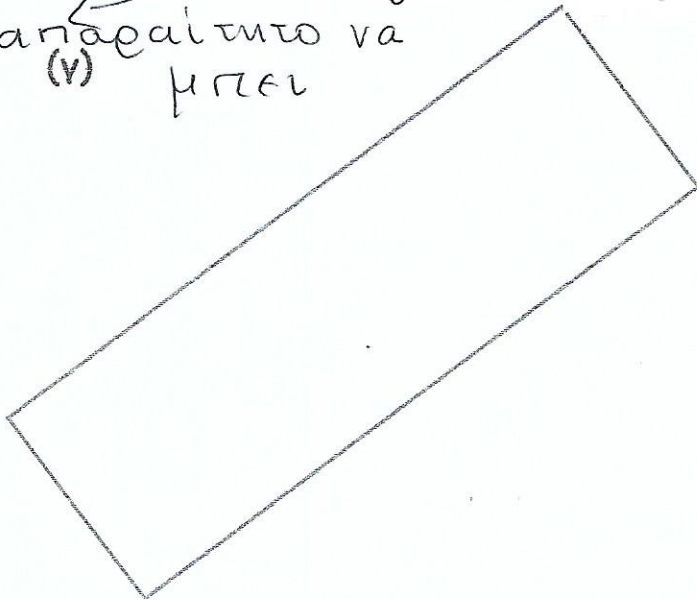
Μήκος: 7 cm μήκος

Πλάτος: 4 cm

7 x 4 ή 4 x 7

Εμβαδόν: 28 cm²

απαραίτητο να
(ν) μπει




Μήκος: _____

Πλάτος: _____

_____ ή _____

Εμβαδόν: _____

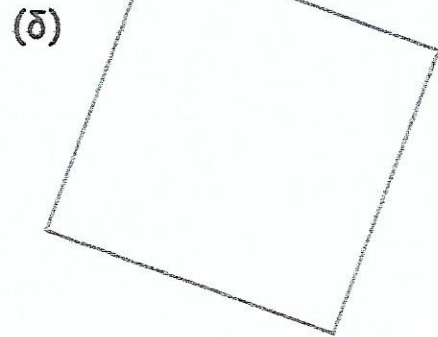


Μήκος: 6 cm

Πλάτος: 6 cm

6 x 6

Εμβαδόν: 36 cm²



Μήκος: _____

Πλάτος: _____

Εμβαδόν: _____