


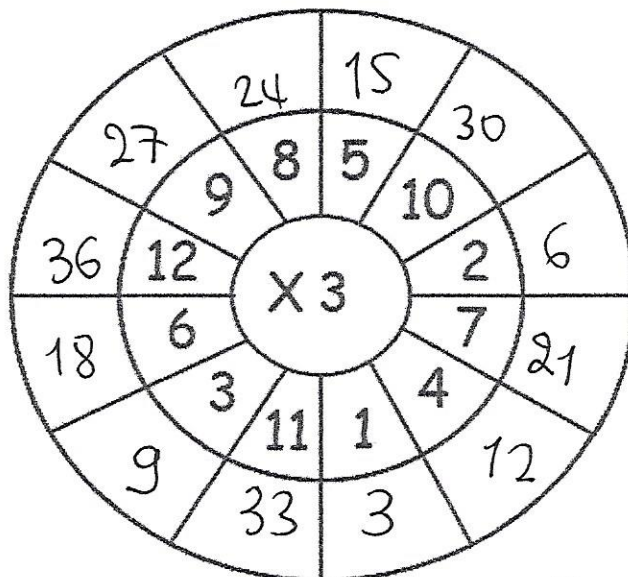

4. Διαλέγω από το κουτί και κυκλώνω τους αριθμούς που είναι πολλαπλάσια του 6.



5. Συμπληρώνω τα μοτίβα:

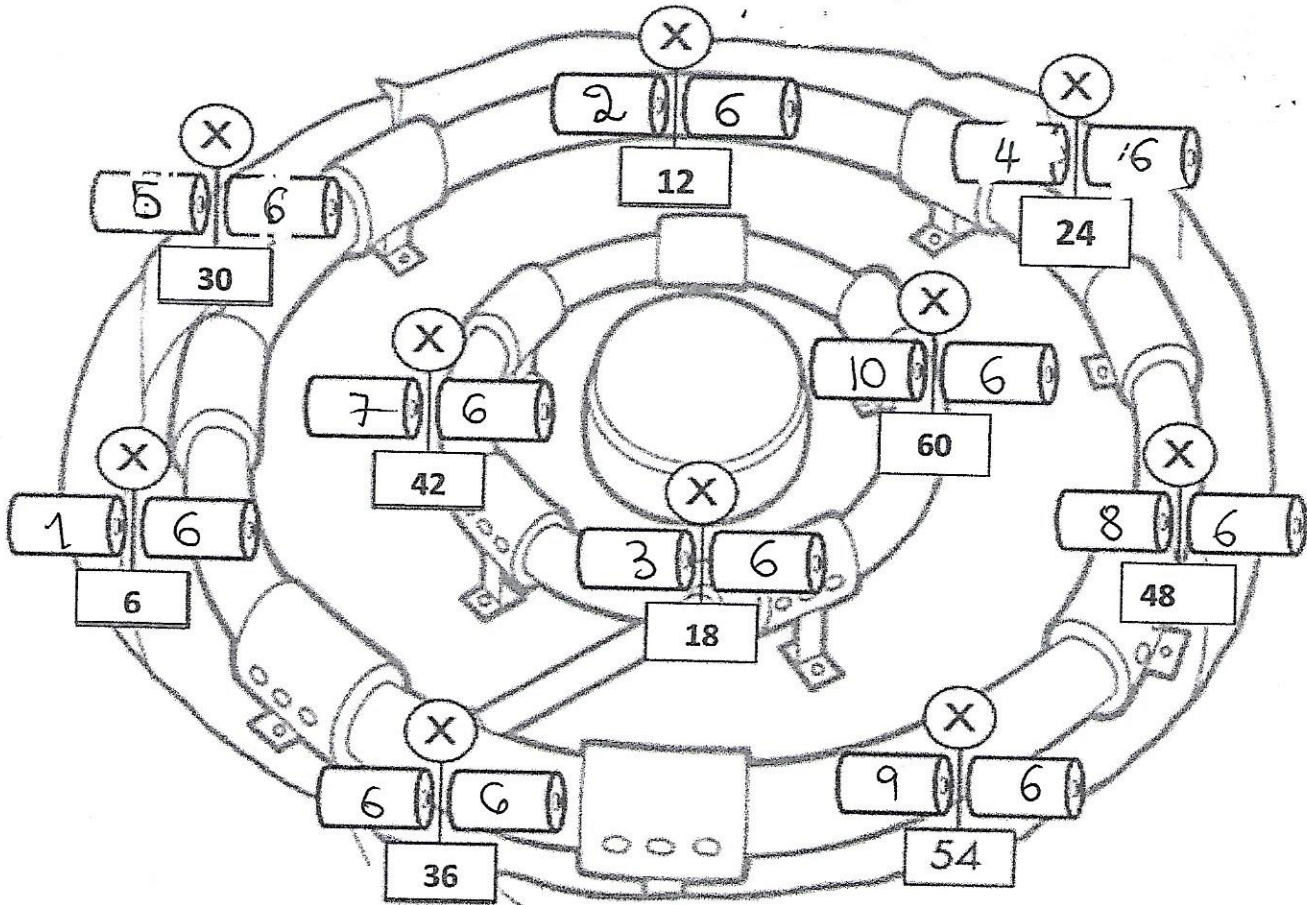
2, 4, 6, 8, 10, 12, 14, 16, 18, 20
 10, 20, 30, 40, 50, 60, 70, 80, 90, 100
 5, 10, 15, 20, 25, 30, 35, 40, 45, 50
 3, 6, 9, 12, 15, 18, 21, 24, 27, 30
 4, 8, 12, 16, 20, 24, 28, 32, 36, 40
 6, 12, 18, 24, 30, 36, 42, 48, 54, 60

6. Συμπλήρωσε τους κύκλους.



ΑΞΙΟΛΟΓΗΣΗ ΣΤΟΝ ΠΙΝΑΚΑ ΤΟΥ 6

1. Γράφω τη μαθηματική πρόταση που έχει γινόμενο τον αντίστοιχο αριθμό.



2. Συμπληρώνω

