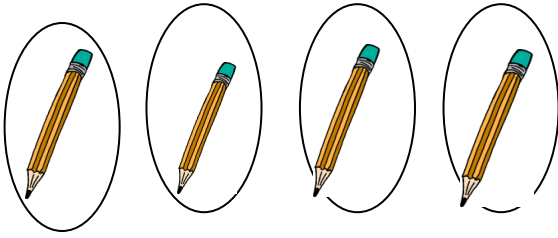



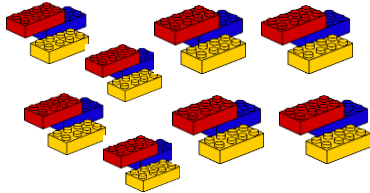



Επανάληψη στον πολλαπλασιασμό και τη διαίρεση


1. Γράψε τις μαθηματικές προτάσεις: (μία πολλαπλασιασμού και μία διαίρεσης)



















2. Συμπλήρωσε τον παρακάτω πίνακα.

X	10	1	9	2	8	3	7	4	6	5
9										

3. Βρες το εξαπλάσιο:

Του 2 → _____

του 5 → _____

του 8 → _____

Του 4 → _____

του 10 → _____

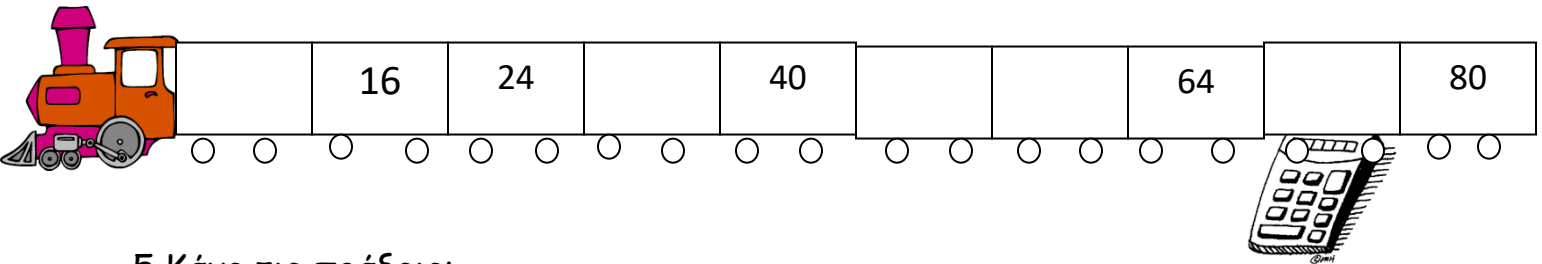
του 7 → _____

Του 6 → _____

του 3 → _____

του 0 → _____

4. Συμπλήρωσε το μοτίβο:



5. Κάνε τις πράξεις:

$2 \times 4 =$

$1 \times 9 =$

$12 : 4 =$

$81 : 9 =$

$1 \times 10 =$

$5 \times 9 =$

$40 : 4 =$

$36 : 6 =$

$3 \times 8 =$

$6 \times 4 =$

$64 : 8 =$

$56 : 8 =$

$8 \times 6 =$

$9 \times 4 =$

$24 : 6 =$

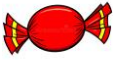
$49 : 7 =$

$4 \times 7 =$

$7 \times 6 =$

$28 : 7 =$

$40 : 4 =$



9 σεντ

- Πόσες καραμέλες μπορώ να αγοράσω με 54 σεντ;

Εξίσωση : _____

Απάντηση: _____

- Ο Αντρέας θέλει να αγοράσει 8 καραμέλες. Πόσα θα πληρώσει;

Εξίσωση : _____

Απάντηση: _____

- Πόσες εξάδες μπορούν να γίνουν τα 24 παιδιά μιας τάξης;

Εξίσωση : _____

Απάντηση: _____

- Σε μια γλάστρα υπάρχουν 4 πετούνιες.

Πόσες πετούνιες υπάρχουν σε 5 γλάστρες; _____


Πόσες πετούνιες υπάρχουν σε 9 γλάστρες; _____

Προβλήματα

1. Η Αγγελική αγόρασε 6 πακέτα με τσίχλες. Κάθε πακέτο περιέχει 8 τσίχλες. Πόσες τσίχλες έχει η Αγγελική;

Πράξη: _____

Απάντηση: _____



2. Ο Βασίλης έχει 8 στρατιωτάκια. Ο Χρίστος έχει πενταπλάσια στρατιωτάκια από τον Βασίλη. Πόσα στρατιωτάκια έχει ο Χρίστος;

Εξίσωση: _____

Απάντηση: _____

3. Η Μαργαρίτα είναι 18 χρονών. Η ηλικία της Μαργαρίτας είναι το τριπλάσιο από την ηλικία της Δήμητρας. Πόσων χρόνων είναι η Δήμητρα;

Εξίσωση: _____



Απάντηση: _____

4. Η Ασπασία έχει στη βεράντα της 9 γλάστρες. Η Σοφία έχει πενταπλάσιες γλάστρες. Πόσες γλάστρες έχει η Σοφία;

Εξίσωση: _____

Απάντηση: _____

5. Ο Άρμπερ ζωγράφισε 5 σειρές με χταπόδια. Σε κάθε σειρά ζωγράφισε 7 χταπόδια. Πόσα χταπόδια ζωγράφισε;

Εξίσωση: _____



Απάντηση: _____

5. Ο Κώστας αγόρασε 18 ξυλομπογιές, σε κουτιά. Κάθε κουτί έχει 6 ξυλομπογιές. Πόσα κουτιά ξυλομπογιές αγόρασε ο Κώστας;

Εξίσωση: _____

Απάντηση: _____

6. Η Χριστίνα μέτρησε τις ξυλομπογιές και τους μαρκαδόρους που είχε στην κασετίνα της. Οι ξυλομπογιές ήταν 6 και οι μαρκαδόροι ήταν 4 φορές περισσότεροι. Πόσους μαρκαδόρους είχε στην κασετίνα της ;

Εξίσωση: _____

Απάντηση: _____

7. Ο Νίκος έχει 32 στρατιωτάκια. Τα έβαλε σε 8 σειρές. Πόσα στρατιωτάκια έβαλε σε κάθε σειρά;

Εξίσωση: _____

Απάντηση: _____