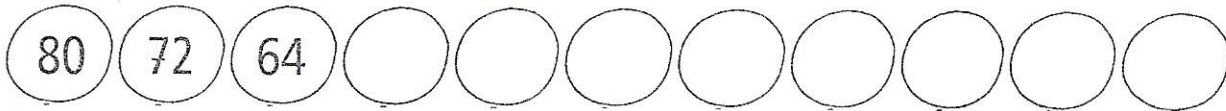


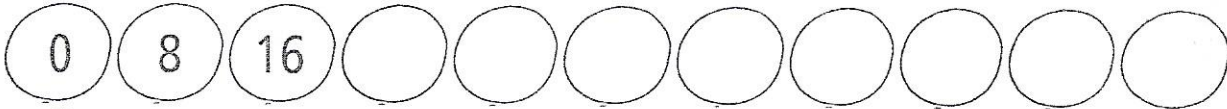


Ονοματεπώνυμο: .....

Ημερομηνία: .....

1 Βρίσκω τον κανόνα και συμπληρώνω τις αριθμητικές αλυσίδες: (Προσπαδώ να τα μαθώ απ'έξω)



2 Συμπληρώνω προσεκτικά τον πίνακα:

φορές	0	1	4	3	5	7	8	2	10	6	9
8											

3 Λύνω προσεκτικά τους πολλαπλασιασμούς και παρατηρώ τα γινόμενα:

$4 \times 4 = \square$

$3 \times 4 = \square$

$8 \times 4 = \square$

$5 \times 4 = \square$

$4 \times 8 = \square$

$3 \times 8 = \square$

$8 \times 8 = \square$

$5 \times 8 = \square$

$6 \times 4 = \square$

$10 \times 4 = \square$

$2 \times 4 = \square$

$7 \times 4 = \square$

$6 \times 8 = \square$

$10 \times 8 = \square$

$2 \times 8 = \square$

$7 \times 8 = \square$

✦ όπως κάναμε στην τάξη (0, 8, 16, 24, 32...)

