

Όνομα: \_\_\_\_\_


Τάξη: \_\_\_\_\_

Ημερ: \_\_\_\_\_


# ΚΛΑΣΜΑΤΑ

1. Να βάψεις:

α) Με κόκκινο χρώμα το  $\frac{1}{2}$  καθενός από τα παρακάτω σχήματα:

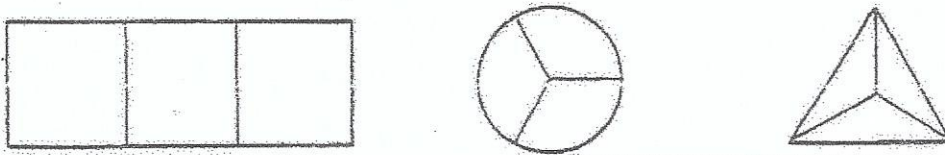


β) Με κίτρινο χρώμα το  $\frac{1}{4}$  καθενός από τα παρακάτω σχήματα:

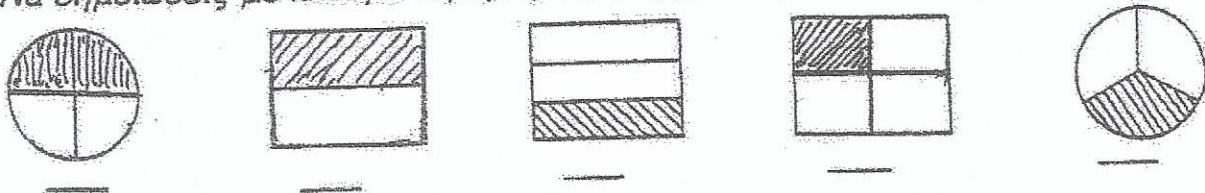


Να χρωματίσεις:

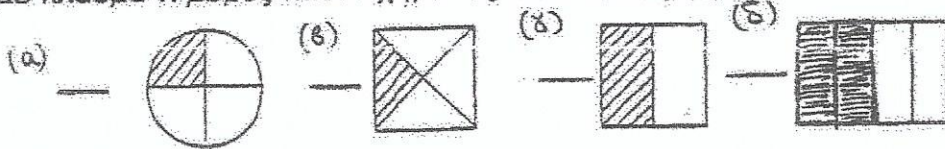
γ) Με κόκκινο χρώμα το  $\frac{1}{3}$  καθενός από τα παρακάτω σχήματα:



2. Να σημειώσεις με κλάσμα τι μέρος κάθε σχήματος είναι σκιασμένο:



Να σημειώσεις με κλάσμα τι μέρος κάθε σχήματος είναι σκιασμένο:




3. Μπορείς να υπολογίσεις:

Πόσοι μήνες είναι το  $\frac{1}{2}$  του έτους;

.....

Πόσοι μήνες είναι το  $\frac{1}{4}$  του έτους;

.....

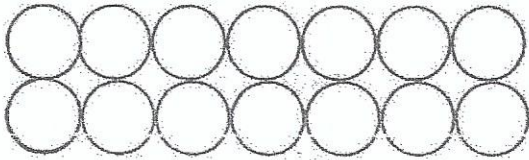


Έχω ξεχάσει τα κλάσματα!  
Πρέπει αμέσως να γίνω ξεφτέρι!  
Ακολουθήσε με!!!

Όνομα: \_\_\_\_\_


7  
(α) Χρωματίζω με κόκκινο το  $\frac{1}{2}$  των...

κύκλων



Εξίσωση: .....

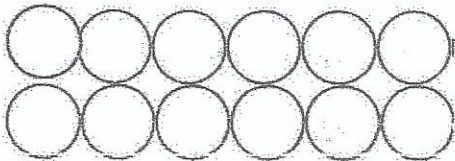
τετραγώνων



Εξίσωση: .....


(β) Χρωματίζω με πράσινο το  $\frac{1}{4}$  των...

κύκλων



Εξίσωση: .....

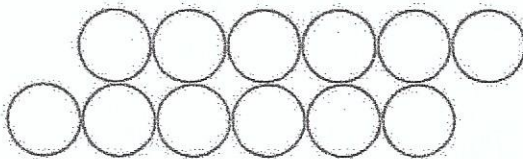
τετραγώνων



Εξίσωση: .....

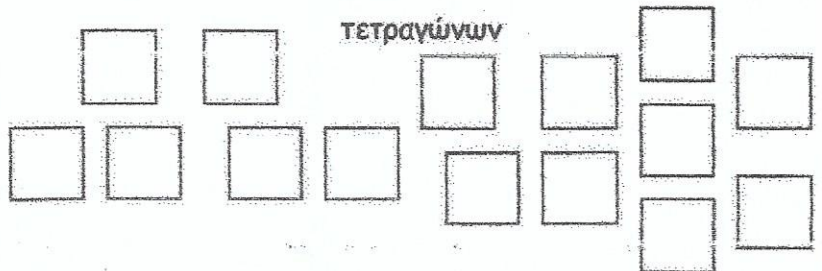
(γ) Χρωματίζω με μπλε τα  $\frac{2}{3}$  των...

κύκλων



Εξίσωση: .....

τετραγώνων



Εξίσωση: .....