

Όνομα: _____

Τάξη: _____ Ημερομηνία: _____

Διάβασε προσεκτικά και κύκλωσε τη σωστή απάντηση. Μη βιάζεσαι, δώσε περισσότερη προσοχή.


Μια κασετίνα χωράει 4 μολύβια.



Άρα, 5 κασετίνες χωράνε:

- 20 σβηστήρια
- 20 πένες
- 20 μολύβια.


Ένα άλογο έχει 4 πόδια.



Άρα, 3 άλογα έχουν:

- 12 ουρές
- 12 πόδια
- 12 άλογα.

Μια καρέκλα έχει 4 πόδια.



Άρα, 7 καρέκλες έχουν:

- 27 πόδια.
- 24 καρέκλες
- 28 πόδια.

Ένα χρυσόψαρο έχει 0 πόδια.



Άρα, 12 χρυσόψαρα έχουν:

- 12 πόδια.
- 12 ουρές
- 0 πόδια.

Μια φανέλα στοιχίζει € 6.



Άρα , 3 φανέλες στοιχίζουν:

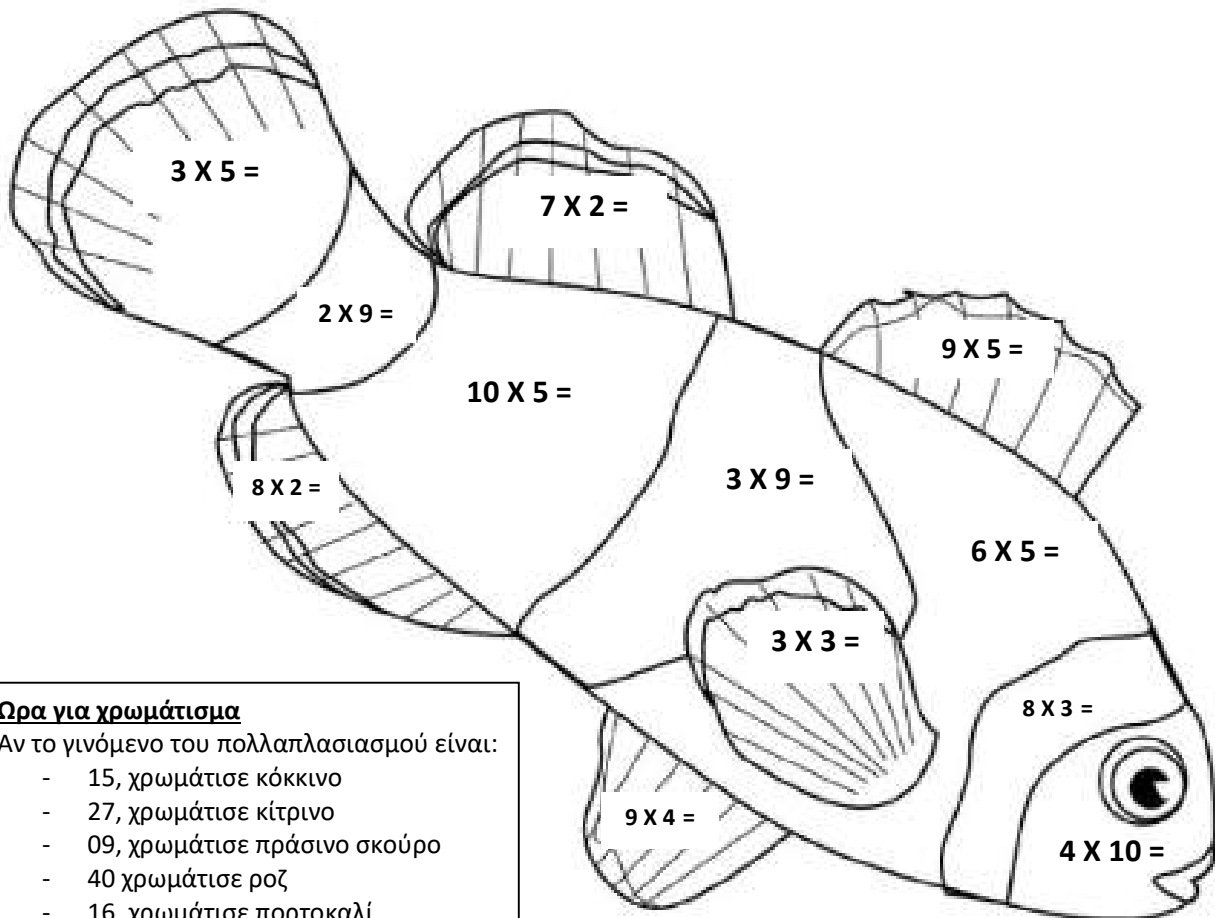
- 18 σεντ.
- €18
- 18

Σε μια ομάδα μπάσκετ παίζουν 5 παιδιά.



Άρα , σε ένα αγώνα μπάσκετ , παίζουν:

- 10 παιδιά
- 2 παιδιά
- 10



Ωρα για χρωμάτισμα

Αν το γινόμενο του πολλαπλασιασμού είναι:

- 15, χρωμάτισε κόκκινο
- 27, χρωμάτισε κίτρινο
- 09, χρωμάτισε πράσινο σκούρο
- 40 χρωμάτισε ροζ
- 16, χρωμάτισε πορτοκαλί
- 14, χρωμάτισε γκριζο
- 45, χρωμάτισε μοβ
- 36, χρωμάτισε γαλάζιο
- 18, χρωμάτισε πράσινο ανοιχτό
- 50, χρωμάτισε μπλε σκούρο
- 30, χρωμάτισε καφέ
- 24, χρωμάτισε μπεζ