

ΜΑΘΗΜΑΤΑ

Ημερομηνία: 1/6/2020

ΕΛΛΗΝΙΚΑ:

- Σήμερα κάναμε για την ώρα. Αναφερθήκαμε στα 60 λεπτά που έχει μια ώρα και στο ότι ο ΜΕΓΑΛΟΣ ΔΕΙΧΤΗΣ σε ένα ρολόι μας δείχνει τα λεπτά και ο μικρός τις ώρες. Εξηγήσαμε ότι τα λεπτά τα μετράμε 5 - 5 .
- Επίσης αναφερθήκαμε στο «και μισή», «και τέταρτο», στο «παρά τέταρτο», και έδωσα στα παιδιά ένα ρολόι σε χαρτί να τοποθετήσουν τους δείχτες και να εξασκηθούν για να μάθουν να υπολογίζουν σωστά την ώρα. Το ίδιο ρολόι πήραν και τα παιδιά της προηγούμενης εβδομάδας.
- Όσα παιδιά δεν έρχονται στο σχολείο, τους το έχω ετοιμάσει και ΑΥΡΙΟ ΑΠΟ τις 7:30μ.μ. μέχρι τις 1:05μ.μ. Θα τοποθετηθούν στην είσοδο του σχολείου τα εξής:
 - Τα βιβλία των Αγγλικών (το καινούριο τεύχος). Αυτό θα το πάρουν ΜΟΝΟ οι γονείς των παιδιών που ΔΕΝ έρχονται στο σχολείο. Μέσα έχω τοποθετήσει και το ρολόι.
 - Το βιβλίο των Μαθηματικών Μέρος 5 και το Βιβλίο των Ελληνικών Τεύχος Γ' . Αυτά θα τα πάρουν ΜΟΝΟ οι γονείς των παιδιών της Α' ομάδας και οι γονείς των παιδιών που ΔΕΝ ΕΡΧΟΝΤΑΙ στο σχολείο. Μέσα έχω τοποθετήσει και διάφορα φυλλάδια που πιθανόν να χρειαστούμε τις επόμενες μέρες.

ΟΠΟΤΑΝ:

Για την «ώρα» τα παιδιά έχουν να κάνουν το φυλλάδιο που θα βάλω πιο κάτω και στο τετράδιο εργασιών στη σελίδα 19, την άσκηση 9. Καλό θα ήταν να φτιάξετε το ρολόι (όσοι δεν το έχουν θα το πάρουν αύριο) και μετά να γίνουν η άσκηση και τα φυλλάδια.

ΜΑΘΗΜΑΤΙΚΑ: σελ. 40-43.

- Αναφορά στα κλάσματα. Εξηγούμε ότι όταν λέμε το $\frac{1}{4}$ εννοούμε

ότι έχω για παράδειγμα 20 μήλα και τα χωρίζω σε 4 ομάδες. Αυτό μου το δείχνει ο παρονομαστής που είναι ο αριθμός στον κόκκινο κύκλο.

Ο αριθμητής που είναι ο αριθμός στο γαλάζιο τρίγωνο, μου δείχνει πόσες από αυτές τις ομάδες χρειάζομαι .

Ένα κλάσμα μου δείχνει τι μέρος του συνόλου έχω. Στην πιο πάνω περίπτωση με τα μήλα είναι το 5, επειδή στην ουσία κάνω διαίρεση.

Όταν θέλω το $\frac{1}{4}$ του 20 θα κάνω : $20:4 = \boxed{5}$


Άρα το $\frac{1}{4}$ του 20 είναι το 5.

Κάτι αντίστοιχο γίνεται και με το $\frac{1}{2}$ ΚΤΛ


Με προσκαλούν και προσκαλώ (2)




Ζωγράφισε τους δείκτες στα ρολόγια ώστε να δείχνουν την ώρα σωστά.




3 ακριβώς




5 και μισή



2 και τέταρτο



7 παρά τέταρτο



12 και μισή



11 παρά τέταρτο



Γράψε την ώρα που δείχνουν τα ρολόγια όπως στο παράδειγμα. Θυμήσου! Μετράω 5-5 από τη γραμμούλα του 1 για να βρω τα λεπτά που δείχνει ο μεγάλος δείκτης.



3.20

