







ΔΗΜΟΤΙΚΟ ΣΧΟΛΕΙΟ

Όνομα: _____ Τμήμα: _____

Εξάσκηση στην αφαίρεση μέχρι το 10

Αντίγραψε τις μαθηματικές προτάσεις στο τετράδιο μαθηματικών και γράψε τη διαφορά (αποτέλεσμα αφαίρεσης). Να αφήνεις μια γραμμούλα άδεια ανάμεσα τους.



$7 - 2 =$

$10 - 7 =$

$10 - 6 =$

$8 - 2 =$

$6 - 3 =$

$7 - 3 =$

$6 - 3 =$

$9 - 5 =$

$4 - 2 =$

$10 - 2 =$

$5 - 4 =$

$5 - 3 =$

$9 - 8 =$

$8 - 4 =$

$10 - 3 =$

$7 - 4 =$

$9 - 7 =$

$10 - 8 =$

$3 - 1 =$

$8 - 3 =$

$10 - 5 =$

$6 - 1 =$

$9 - 2 =$

$7 - 5 =$

$9 - 6 =$

