






ΔΗΜΟΤΙΚΟ ΣΧΟΛΕΙΟ

Όνομα: _____ Τμήμα: _____

Εξάσκηση στην πρόσθεση μέχρι το 10

1. Αντίγραψε τις μαθηματικές προτάσεις στο τετράδιο μαθηματικών και γράψε το άθροισμα (αποτέλεσμα πρόσθεσης). Να αφήνεις μια γραμμούλα άδεια ανάμεσα τους.



$2 + 4 =$

$1 + 6 =$

$2 + 5 =$

$5 + 1 =$

$1 + 8 =$

$4 + 3 =$

$3 + 3 =$

$5 + 3 =$

$5 + 5 =$

$4 + 4 =$

$6 + 3 =$

$5 + 4 =$

$7 + 2 =$

$3 + 7 =$

$4 + 6 =$

$2 + 8 =$

$0 + 9 =$

$3 + 5 =$

$6 + 4 =$

$1 + 9 =$

$2 + 6 =$

$0 + 10 =$

