
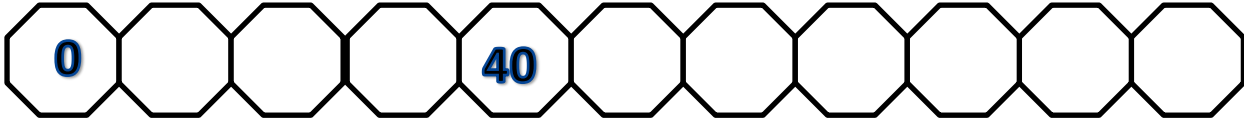


Αριθμοί 0-100 (δεκάδες)



1. Συμπλήρωσε τους αριθμούς (δεκάδες):



2. Γράψε τον αριθμό:

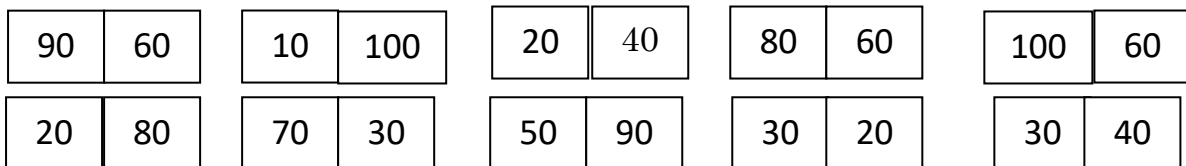
τριάντα _____ ογδόντα _____ εκατό _____

δέκα _____ εξήντα _____ πενήντα _____

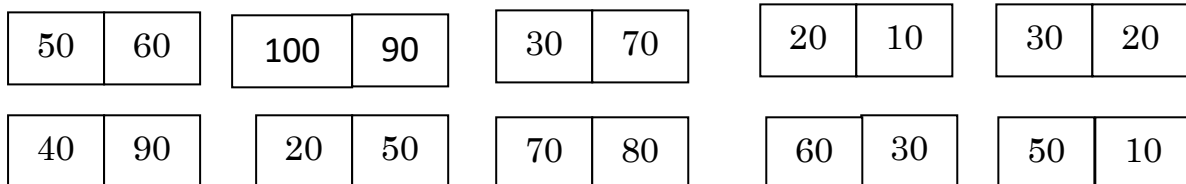
ενενήντα _____ είκοσι _____ εβδομήντα _____ σαράντα _____



3. Χρωμάτισε τον μεγαλύτερο αριθμό:



4. Χρωμάτισε το μικρότερο αριθμό:



5. Σύγκρινε τους αριθμούς βάζοντας το σωστό σύμβολο >, <:

80 ___ 60 40 ___ 70 30 ___ 40 60 ___ 50

50 ___ 90 30 ___ 100 80 ___ 70 10 ___ 20

20 ___ 30 90 ___ 60 100 ___ 10 20 ___ 60

6. Ποιος αριθμός είναι:

Έχει πέντε δεκάδες: _____

Έχει δέκα δεκάδες: _____

Έχει τρεις δεκάδες: _____

Έχει οκτώ δεκάδες: _____

Είναι δύο δεκάδες μεγαλύτερος από το 80: _____

Είναι μια δεκάδα μικρότερος από το 100 : _____



7. Κύκλωσε τους αριθμούς που είναι **μεγαλύτεροι** από τον πρώτο.



80	60	20	100	70	40	90	30
----	----	----	-----	----	----	----	----

30	80	10	20	50	90	60	40
----	----	----	----	----	----	----	----

70	20	80	90	60	50	70	100
----	----	----	----	----	----	----	-----

60	10	60	50	80	30	100	70
----	----	----	----	----	----	-----	----

8. Κύκλωσε τους αριθμούς που είναι **μικρότεροι** από τον πρώτο.

20	30	10	50	20	40	80
----	----	----	----	----	----	----

50	40	90	10	30	20	100
----	----	----	----	----	----	-----

90	30	80	90	70	100	60
----	----	----	----	----	-----	----

80	50	80	30	10	90	70
----	----	----	----	----	----	----

9. Ποιος αριθμός είναι;

