

## Αριθμοί 0-20

Μαθαίνω να μετρώ από το 0 -20 και να γράφω τους αριθμούς.



❖ Γράφω τους αριθμούς από το 0- 20.

0																			
---	--	--	--	--	--	--	--	--	--	--	--	--	--	--	--	--	--	--	--

❖ Γράφω τους αριθμούς ξεκινώντας από το 20 και τελειώνοντας στο 0.

20																			
----	--	--	--	--	--	--	--	--	--	--	--	--	--	--	--	--	--	--	--

❖ Γράφω τον προηγούμενο και τον επόμενο αριθμό.



❖ Βάζω σε κύκλο το σωστό.

$14 > 18$

$15 < 19$

$17 > 11$

$19 = 9$

$20 < 16$

$16 > 15$

$4 = 14$

$20 > 18$

$3 < 13$

$12 < 17$

**Χρησιμοποιώ την αριθμητική γραμμή:**

❖ Μετρώ 2 – 2 ως το 20 και συμπληρώνω.

2, 4, \_\_\_\_\_, \_\_\_\_\_, \_\_\_\_\_, \_\_\_\_\_, \_\_\_\_\_, \_\_\_\_\_, \_\_\_\_\_, \_\_\_\_\_.

❖ Μετρώ 3 – 3 ως το 20 και συμπληρώνω.

3, 6, \_\_\_\_\_, \_\_\_\_\_, \_\_\_\_\_, \_\_\_\_\_ 21.

❖ Μετρώ 4 – 4 ως το 20 και συμπληρώνω.

4, \_\_\_\_\_, \_\_\_\_\_, \_\_\_\_\_, \_\_\_\_\_.

❖ Μετρώ 5 – 5 ως το 20 και συμπληρώνω.



\_\_\_\_\_, \_\_\_\_\_, \_\_\_\_\_, \_\_\_\_\_.







Όνομα:



\_\_\_\_\_

❖ Συμπληρώνω όπως το παράδειγμα.



	<input type="text" value="1"/>	Δεκάδες	
	<input type="text" value="3"/>	Μονάδες	

	<input type="text"/>	Δεκάδες	
	<input type="text"/>	Μονάδες	

	<input type="text"/>	Δεκάδες	
	<input type="text"/>	Μονάδες	


	<input type="text"/>	Δεκάδες	
	<input type="text"/>	Μονάδες	

	<input type="text"/>	Δεκάδες	
	<input type="text"/>	Μονάδες	

	<input type="text"/>	Δεκάδες	
	<input type="text"/>	Μονάδες	



Πρόσεξε το 20 έχει:



<input type="text"/>	Δεκάδες
<input type="text" value="0"/>	Μονάδες