

Αριθμοί 0 -100

Χρησιμοποιώ τη σελίδα 28 από το βιβλίο των Μαθηματικών
για να κάνω εξάσκηση στους αριθμούς 0-100:

1. Γράψε τον αριθμό.

πενήντα δύο 52

εξήντα ένα _____

είκοσι πέντε _____

ενενήντα τέσσερα _____

σαράντα έξι _____

πενήντα εννέα _____

τριάντα οκτώ _____

ογδόντα τρία _____



2. Κύκλωσε το **μεγαλύτερο** αριθμό.

18
29

59
12

27
72

20
40

56
65

3. Κύκλωσε το **μικρότερο** αριθμό.

21
91

88
86

34
43

68
29

76
67

4. Κύκλωσε τους αριθμούς που είναι **μεγαλύτεροι** από τον πρώτο αριθμό.

33	34	24	14	45	30	29	35
----	----	----	----	----	----	----	----

66	96	77	60	58	67	88	55
----	----	----	----	----	----	----	----

27	16	28	18	22	38	49	14
----	----	----	----	----	----	----	----

89	20	100	99	71	56	63	88
----	----	-----	----	----	----	----	----

5. Κύκλωσε τους αριθμούς που είναι **μικρότεροι** από τον πρώτο αριθμό.

42	43	40	88	14	24	46	70
----	----	----	----	----	----	----	----

74	59	48	12	51	77	92	89
----	----	----	----	----	----	----	----

57	75	58	56	80	51	20	47
----	----	----	----	----	----	----	----

95	98	70	15	81	100	25	96
----	----	----	----	----	-----	----	----

6. Γράψε το σύμβολο που ταιριάζει: $<$, $>$, $=$

24 29

18 78

25 25

79 71

66 64

70 80

85 73

39 37

97 79

63 63

88 98

59 39

7. Κύκλωσε το **μεγαλύτερο** αριθμό.

100
50

90
20

60
90

30
80

70
40

8. Κύκλωσε το **μικρότερο** αριθμό.

90
70

60
20

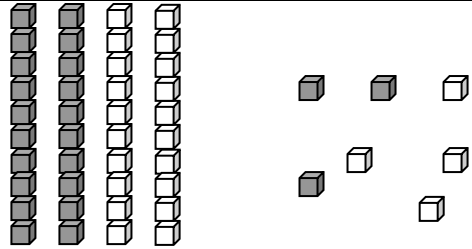
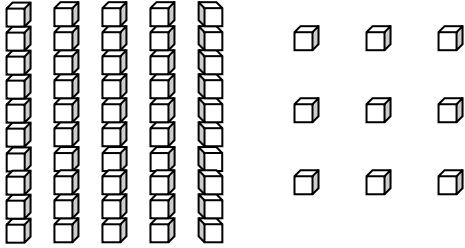
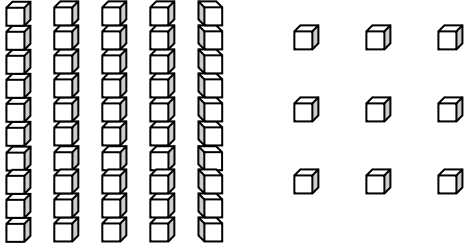
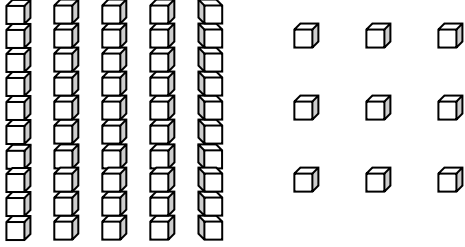
30
100

70
10

40
80

Όνομα : _____



9. Συμπλήρωσε, όπως στο παράδειγμα:

Δεκάδες	Μονάδες	Χρωματίζω	Αριθμός
2	3		23
1	4		<input type="text"/>
5	7		<input type="text"/>
3	2		<input type="text"/>

10. Συνέχισε τα μοτίβα:

- 0, 10, 20,,,,,,,,
- 20, 21, 22,,,,,,,,
- 50,, 52, 53,,,,,,,,
- 70, 71,, 73,,,,,,

11.Χρωμάτισε τόσα τετραγωνάκια όσα δείχνει ο αριθμός:



63

27

12.Κύκλωσε το μεγαλύτερο αριθμό.

15	18
45	54
12	21
32	31
92	83
67	90

εξήντα έξι	56
τριάντα επτά	73
δεκαοκτώ	14
πενήντα εννέα	99
ογδόντα πέντε	87
εβδομήντα δύο	42

13.Γράψε τους αριθμούς στη σειρά, αρχίζοντας από το μικρότερο:

32 78 90 12 65

<input type="text"/>	<input type="text"/>	<input type="text"/>	<input type="text"/>	<input type="text"/>
----------------------	----------------------	----------------------	----------------------	----------------------

14.Γράψε τους αριθμούς στη σειρά, αρχίζοντας από το μεγαλύτερο:

76 72 78 79 71

<input type="text"/>	<input type="text"/>	<input type="text"/>	<input type="text"/>	<input type="text"/>
----------------------	----------------------	----------------------	----------------------	----------------------