


Εξάσκηση στην πρόσθεση και αφαίρεση 0-10



1. Συμπλήρωσε τις προσθέσεις.

$4 + \underline{\quad} = 7$

$\underline{\quad} + 5 = 10$

$0 + \underline{\quad} = 4$

$\underline{\quad} + 6 = 9$

$\underline{\quad} + 1 = 3$

$3 + \underline{\quad} = 6$

$2 + \underline{\quad} = 8$

$9 + \underline{\quad} = 10$

$1 + \underline{\quad} = 5$

$\underline{\quad} + 1 = 8$

$\underline{\quad} + 5 = 9$

$\underline{\quad} + 2 = 7$

$2 + \underline{\quad} = 2$

$\underline{\quad} + 4 = 5$

$\underline{\quad} + 3 = 10$

$4 + \underline{\quad} = 8$

$6 + \underline{\quad} = 10$

$\underline{\quad} + 3 = 7$

$5 + \underline{\quad} = 9$

$\underline{\quad} + 3 = 5$

2. Συμπλήρωσε τις αφαιρέσεις.

$6 - \underline{\quad} = 2$

$\underline{\quad} - 3 = 7$

$9 - \underline{\quad} = 4$

$\underline{\quad} - 6 = 2$

$\underline{\quad} - 1 = 4$

$3 - \underline{\quad} = 1$

$7 - \underline{\quad} = 3$

$8 - \underline{\quad} = 1$

$10 - \underline{\quad} = 5$

$\underline{\quad} - 1 = 8$

$\underline{\quad} - 5 = 4$

$\underline{\quad} - 3 = 3$

$8 - \underline{\quad} = 2$

$\underline{\quad} - 4 = 5$

$\underline{\quad} - 9 = 0$

$7 - \underline{\quad} = 2$



$4 - \underline{\quad} = 0$

$\underline{\quad} - 2 = 3$

$8 - \underline{\quad} = 5$

$\underline{\quad} - 5 = 3$




3. Γράψε 4 μαθηματικές προτάσεις χρησιμοποιώντας τους αριθμούς:



Προβλήματα

Κατάστημα παιχνιδιών

Τιμοκατάλογος



Α) Η Ελένη αγόρασε ένα ποντικάκι, μια σβούρα και μια μπάλα. Πόσα πλήρωσε;

Μαθηματική πρόταση: _____

Απάντηση: _____

Β) Ο Σάββας είχε €8. Αγόρασε μια χελωνίτσα. Πόσα χρήματα του έμειναν;

Μαθηματική πρόταση: _____

Απάντηση: _____

Γ) Η Νικολίνα έχει €6 και θέλει να αγοράσει ένα ρομπότ. Πόσα χρήματα χρειάζεται ακόμη;

Μαθηματική πρόταση: _____

Απάντηση: _____



Γράψε το δικό σου προβληματάκι για το κατάστημα παιχνιδιών !

$$2 + \underline{\quad} = 7$$

Απάντηση: _____