




# Εξάσκηση στην πρόσθεση και αφαίρεση

Αρχή



6				
+2		-4		+3
				-1
	+3		-5	+2
	-1			
	+2			
				-1



$8 - \square = 6$	$7 - \square = 3$
$\square - 3 = 2$	$\square - 5 = 4$
$5 - \square = 1$	$2 - \square = 0$
$\square - 2 = 7$	$\square - 3 = 6$
$4 - \square = 3$	$8 - \square = 4$
$\square - 6 = 2$	$\square - 1 = 7$
$9 - \square = 5$	$6 - \square = 4$

Όνομα:

---

$\square + 3 = 7$	$\square + 2 = 6$	$\square + 4 = 9$
$\square + 4 = 7$	$\square + 2 = 7$	$\square + 1 = 9$
$\square + 7 = 10$	$\square + 6 = 6$	$\square + 3 = 8$
$\square + 1 = 5$	$\square + 3 = 7$	$\square + 0 = 10$
$\square + 8 = 9$	$\square + 3 = 5$	$\square + 5 = 8$

$\begin{array}{r} 8 \\ -2 \\ \hline 6 \end{array}$	$\begin{array}{r} 6 \\ -3 \\ \hline \end{array}$	$\begin{array}{r} 4 \\ -3 \\ \hline \end{array}$	$\begin{array}{r} 9 \\ -5 \\ \hline \end{array}$	$\begin{array}{r} 7 \\ -4 \\ \hline \end{array}$
$\begin{array}{r} 10 \\ -5 \\ \hline \end{array}$	$\begin{array}{r} 5 \\ -2 \\ \hline \end{array}$	$\begin{array}{r} 6 \\ -4 \\ \hline \end{array}$	$\begin{array}{r} 3 \\ -1 \\ \hline \end{array}$	$\begin{array}{r} 8 \\ -5 \\ \hline \end{array}$
$\begin{array}{r} 2 \\ -2 \\ \hline \end{array}$	$\begin{array}{r} 9 \\ -3 \\ \hline \end{array}$	$\begin{array}{r} 7 \\ -3 \\ \hline \end{array}$		



# Προβλήματα

- ✓ Υπογραμμίζω την ερώτηση.
- ✓ Κυκλώνω τις πληροφορίες που θα μου χρειαστούν.
- ✓ Κλέβω λέξεις από την ερώτηση για να γράψω την απάντηση!

Λύσε τα πιο κάτω προβλήματα:

1. Ο Μιχάλης έχει 8 βόλους. Η Αναστασία έχει 2 βόλους περισσότερους.

Πόσους βόλους έχει η Αναστασία;

Μαθηματική πρόταση: \_\_\_\_\_

Απάντηση: \_\_\_\_\_



2. Ο Αντρέας έχει 9 παραμύθια. Διάβασε τα 5. Πόσα έχει να διαβάσει ακόμη;

Μαθηματική πρόταση: \_\_\_\_\_

Απάντηση: \_\_\_\_\_

3. Στη φρουτιέρα του σπιτιού μας υπήρχαν μερικά μήλα. Φάγαμε τα 3 μήλα και έμειναν 4. Πόσα μήλα υπήρχαν στη φρουτιέρα;

Μαθηματική πρόταση: \_\_\_\_\_

Απάντηση: \_\_\_\_\_

4. Σε ένα δέντρο κάθονταν 5 πουλάκια. Πέταξαν μερικά κι έμειναν 2. Πόσα πουλάκια πέταξαν;

Μαθηματική πρόταση: \_\_\_\_\_

Απάντηση: \_\_\_\_\_

5. Σε ένα κουτάκι υπάρχουν 4 κέικ σοκολάτας, 4 βανίλιες και 2 μπανάνας. Πόσα κέικ υπάρχουν συνολικά στο κουτάκι;

Μαθηματική πρόταση: \_\_\_\_\_

Απάντηση: \_\_\_\_\_

❖ Γράψε ένα πρόβλημα για τη μαθηματική πρόταση:  $9 - \underline{\quad} = 3$

\_\_\_\_\_

\_\_\_\_\_

\_\_\_\_\_

Απάντηση: \_\_\_\_\_

